

قال الباقر (ع):

«الكمال كل الكمال التفقه في الدين»



**آزمون ورودی حوزه های علمیه
سراسر کشور**

مخصوص داوطلبان مقطع راهنمایی و (زیر دیپلم)

سال تحصیلی ۸۶-۸۵

مدت پاسخگویی: ۱۵۰ دقیقه

تعداد سؤال: ۱۵۰

۱. با استفاده از ترجمه، عبارت قرآنی زیر را کامل نمایید.

﴿إِنَّ مَثَلَ عِيسَىٰ عِنْدَ اللَّهِ ءَادَمَ﴾ «قطعاً مثل عیسی نزد خداوند مانند مثل حضرت آدم است.»

(۱) مَثَل (۲) مَثَلَةٌ (۳) كَمِثْلٍ (۴) كَمَثَلٍ

۲. برای عبارت قرآنی ﴿إِنَّكَ أَنْتَ السَّمِيعُ الْعَلِيمُ﴾ کدام ترجمه صحیح‌تر است؟

(۱) تویی شنوای دانا. (۲) همانا شنوای دانایی. (۳) تو، تویی شنوای دانا. (۴) قطعاً تو، شنوای دانا هستی.

۳. معنای «مِنْ» در عبارت «وَمِنْكُمْ مَنْ يَرِئِدُ الدُّنْيَا» چیست؟

(۱) از (۲) کسی که (۳) چیست (۴) بعضی از

۴. کدام ترجمه، مناسب آیه شریفه ﴿إِنَّ أَوْلَى النَّاسِ بِإِبْرَاهِيمَ لِلَّذِينَ اتَّبَعُوهُ﴾ می‌باشد؟

(۱) بهترین مردم به ابراهیم کسانی هستند که از خدا پیروی کردند.
(۲) قطعاً سزاوارترین مردم به ابراهیم کسانی هستند که او را پیروی کردند.
(۳) قطعاً اولی‌ترین مردم کسانی هستند که از او پیروی کردند.
(۴) نیکوترین مردم نزد ابراهیم پیروان او هستند.

۵. در ترجمه آیه شریفه ﴿قَالَ الْحَارِثِيُّ بْنُ أَنَسٍ إِنَّ اللَّهَ﴾ کدام عبارت صحیح است؟

(۱) گفت: حواریون از یاران خدا هستند.
(۲) گفتند یاران حضرت عیسی: از یاران خدا هستند.
(۳) حواریون گفتند: ما یاران خدا هستیم.
(۴) گفتند حواریون، ما از دوستان خداییم.

۶. کدام کلمه با بقیه از نظر معنی متفاوت است؟

(۱) رَجُلٌ (۲) رَجُلٌ (۳) رَجُلٌ (۴) رَجُلَانٌ

۷. با توجه به کلمات «نیکوکار - نیکوکاران» کدام عبارت از نظر ترجمه صحیح است؟

(۱) مُحْسِنٌ - يُحْسِنُونَ (۲) إِحْسَانٌ - نُحْسِنُ (۳) مُحْسِنٌ - مُحْسِنُونَ (۴) مُحْسِنُونَ - إِحْسَانٌ

۸. کدام گزینه از آداب تلاوت باطنی قرآن کریم می‌باشد؟

(۱) مؤدب نشستن در هنگام قرائت (۲) با صوت زیبا خواندن
(۳) اندیشه و تدبیر در معنی آیات (۴) با ترتیل و شمرده خواندن

۹. مفرد کدام گزینه نادرست است؟

(۱) امور: لمر (۲) فقراء: فقیر (۳) مشارق: مشرق (۴) عالمین: علم

۱۰. معنای «ذَلَّ» و «زَلَّ» به ترتیب کدام است؟

(۱) لغزید - خوار شد (۲) خوار شد - لغزید
(۳) گمراه شد - لغزید (۴) ماندگار شد - گمراه شد

۱۱. «أَسَاءَ» به معنای و «بَصِيرَةٌ» به معنای است.

(۱) چه بد است - بینا (۲) بد کرد - بینایی
(۳) آیا بد است - چشم (۴) بد است - چشم

۱۲. معنی عبارت «أَلَيْسَ الصَّبْحُ بِقَرِيبٍ» کدام است؟

(۱) آیا صبح نزدیک نیست. (۲) آیا نزدیک صبح است.
(۳) آیا به زودی صبح نمی‌شود. (۴) چرا صبح نزدیک نمی‌گردد.

۱۳. ترجمه صحیح «عَزَمْتُ» در آیه شریفه ﴿فَإِذَا عَزَمْتَ فَتَوَكَّلْ عَلَى اللَّهِ﴾ کدام گزینه می‌باشد؟

(۱) تصمیم می‌گیری (۲) اراده کرده بود
(۳) تصمیم گرفتی (۴) تصمیم گرفتم

۱۴. کلمه‌های «جَعَلْتُ - جَعَلْنَا» به ترتیب می‌باشند.

(۱) فعل متکلم مع النفر - فعل متکلم وحده
(۲) فعل متکلم مع النفر - فعل متکلم وحده

(۳) فعل مفرد مؤنث غائب - فعل مثنی مؤنث غائب
(۴) فعل مفرد مذکر غائب - فعل مثنی مذکر غائب

۱۵. ترجمه صحیح آیه شریفه ﴿وَمَنْ يَتَوَكَّلْ عَلَى اللَّهِ فَهُوَ حَسْبُهُ﴾ عبارت است از: «و کسی که توکل کند بر خدا پس»

(۱) او برایش کافیست. (۲) خدا برای او حساب می‌کند. (۳) خدا به او جز می‌دهد. (۴) او حسابگر است.

۱۶. معنی فعل‌هایی که در زیر آنها خط کشیده شده را مشخص نمایید.

﴿الَّذِينَ يَجْعَلُونَ مَعَ اللَّهِ هَآءَ آخَرَ فَسَوْفَ يَعْلَمُونَ﴾

- (۱) قرار خواهند داد - خواهند دانست
(۲) قرار می‌دهند - خواهند دانست
(۳) قرار دادند - دانستند
(۴) قرار دادند - بدانند

۱۷. ترجمه صحیح آیه شریفه ﴿وَمَا لَهُمْ فِي الْأَرْضِ مِن وَلِيٍّ وَلَا نَصِيرٍ﴾ کدام است؟

- (۱) و نیست برای آنها در زمین هیچ سرپرست و یاری کننده‌ای.
(۲) چه کسی در زمین سرپرست و یاری کننده آنهاست؟
(۳) و نیست در زمین برای آنها هیچ پناهگاهی.
(۴) نیست برای آنها دوست و یاری دهنده‌ای.

۱۸. ترجمه مناسب آیه شریفه ﴿قُلْ إِنْ كُنْتُمْ تُحِبُّونَ اللَّهَ فَاتَّبِعُونِي﴾ کدام است؟

- (۱) بگو دوست دارید خدا را پس مرا اطاعت کنید
(۲) بگو اگر خداوند را دوست می‌دارید پس مرا پیروی کنید.
(۳) بگو هرکس خدا را دوست دارد پس او را اطاعت کند.
(۴) بگو هرکس دوست‌دار خدا بود او را اطاعت می‌کند.

۱۹. با توجه به عبارت قرآنی ﴿يَا مَرْيَمُ إِنَّ اللَّهَ اصْطَفَاكِ﴾ کدام ترجمه صحیح است؟

- (۱) ای مریم خداوند تو را برخواهد گزید.
(۲) ای مریم خداوند تو را برمی‌گزیند.
(۳) ای مریم قطعاً خداوند تو را برگزید.
(۴) ای مریم همانا خداوند تو را برخواهد گزید.

۲۰. معنی عبارت ﴿مَنْ عَمِلَ صَالِحًا قَلْبًا﴾ کدام است؟

- (۱) هر کس کار خوبی انجام دهد به نفع خود اوست.
(۲) اگر کسی کار خوبی انجام داد نفع می‌برد.
(۳) هر کس خوب باشد، خوبی به نفس او می‌رسد.
(۴) اگر کسی کار خوبی انجام می‌دهد نتیجه خوبی را می‌گیرد.

● تعلیمات دینی

۲۱. تعداد پیامبران اولوالعزم و تعداد کتب آسمانی طبق فرمایش پیامبر اکرم ﷺ بوده است.

- (۱) ۵ - ۵
(۲) ۶ - ۵
(۳) ۵ - ۱۰۴
(۴) ۶ - ۱۲۴

۲۲. کدام گزینه تعریف علم درایه می‌باشد؟

- (۱) شناخت راویان حدیث.
(۲) شناخت انواع حدیث.
(۳) قوانین و قواعد کلی برای استنباط احکام.
(۴) استنباط معانی کلمات عربی

۲۳. کوچکترین سوره و اولین سوره‌ای که بر پیامبر نازل شده به ترتیب کدامند؟

- (۱) توحید - کوثر
(۲) کوثر - علق
(۳) توحید - علق
(۴) رحمن - توحید

۲۴. کدام مورد، از موارد جهاد ابتدائی می‌باشد؟

- (۱) جنگ احد
(۲) جنگ احزاب
(۳) جنگ نهروان
(۴) جنگ مسلمانان با حکومت ایران و روم

۲۵. کدام مورد از موارد زیر، جزء سه اصل اساسی همه ادیان الهی می‌باشد؟

- (۱) ارتباط با خدا از طریق وحی
(۲) ایمان به هدف و پایداری در راه خدا
(۳) ایمان به معاد و آینده جاودانه انسان
(۴) عدل الهی

۲۶. اصلی‌ترین برنامه انبیا چیست؟

- (۱) قیام علیه مستکبران
(۲) مبارزه با نیاپرستی
(۳) یاری مظلومان
(۴) تبلیغ ایمان به خدای یگانه و معاد

۲۷. کدام گزینه از نابین حضرت مهدی عجل الله تعالی فرجه می‌باشد؟

- (۱) محمد بن عثمان
(۲) علی بن روح
(۳) عثمان بن عرف
(۴) عبادة بن صامت

۲۸. در آیه شریفه ﴿لَقَدْ جَاءَكُمْ رَسُولٌ مِّنْ أَنفُسِكُمْ عَزِيزٌ عَلَيْهِ مَا عَنِتُّمْ حَرِيصٌ عَلَيْكُمْ بِالْمُؤْمِنِينَ رَءُوفٌ رَّحِيمٌ﴾ به کدام یک از اوصاف پیامبر اشاره نشده است؟

- (۱) دلسوزی
(۲) مهربانی
(۳) علاقمندی به هدایت
(۴) پایداری

۲۹. پیامبر اسلام در سال چندم بعثت خویشان نزدیکش را در مجلسی به مهمانی فراخواند و به اسلام دعوت کرد؟
 (۱) اول (۲) دوم (۳) سوم (۴) چهارم
۳۰. پیامبر گرامی اسلام کدام عبادت را به چشمه پاک و پرآبی که انسان خود را با آن شستشو می دهد تشبیه کرده است؟
 (۱) نماز (۲) روزه (۳) گریه بر امام حسین علیه السلام (۴) حج
۳۱. عبارت «هر پدیده‌ای که به وجود می آید وجودش از خودش نیست بلکه وابسته به چیز دیگری است» به کدام برهان دربارۀ خداشناسی اشاره دارد؟
 (۱) برهان نظم (۲) برهان عنایت (۳) برهان عدالت (۴) برهان حکمت
۳۲. قصاص یعنی چه؟
 (۱) تلافی ستم گناهکار (۲) کشتن قاتل (۳) کیفر و عذاب (۴) به دار کشیدن
۳۳. کدام گزینه صحیح است؟
 (۱) همه پیامبران دین و شریعت ویژه داشته‌اند.
 (۲) بعضی از پیامبران دین و شریعت ویژه داشته‌اند.
 (۳) به همه پیامبران «اولو العزم» گفته می‌شود.
 (۴) هیچ دین و شریعتی برتر از دین دیگر نیست.
۳۴. حضرت علی علیه السلام پس از پذیرش حکومت، مهم‌ترین برنامه حکومت خویش را چه چیزی اعلام کرد؟
 (۱) جنگ با منافقان (۲) گسترش محدوده حکومت (۳) جنگ با معاویه (۴) یاری مظلومان و محرومان
۳۵. «اهل بغی» به چه کسانی گفته می‌شود؟
 (۱) یهودی‌ها (۲) بت پرستان (۳) خوارج (۴) اهل ذمه
۳۶. پیامبر اسلام در سال چندم بعثت از مکه به مدینه هجرت کرد؟
 (۱) هشتم (۲) نهم (۳) دهم (۴) سیزدهم
۳۷. شدیدترین عذاب روز قیامت با توجه به سخن حضرت عیسی علیه السلام کدام است؟
 (۱) سوختن در آتش جهنم (۲) خشم خدا (۳) نارضایتی پدر و مادر (۴) هم‌نشینی با بدکاران
۳۸. آب بارانی که در جایی جمع می‌شود هنگام نزول باران حکم آب را دارد.
 (۱) جاری (۲) کر (۳) قلیل (۴) کر و جاری
۳۹. اگر لباس‌های کوچک نمازگزار که بوسیله آن‌ها نمی‌توان عورت را پوشانید، نجس باشند نماز خواندن با آنها
 (۱) صحیح است. (۲) باطل است. (۳) مکروه است. (۴) حرام است.
۴۰. ظرفی را که سگ لیسیده یا از آن آب خورده به چه صورت می‌توان تطهیر کرد؟
 (۱) بنا بر احتیاط واجب آن را دو مرتبه با آب کر می‌شویم تا پاک شود.
 (۲) ابتدا خاک مال می‌شود سپس دو مرتبه با آب شسته می‌شود.
 (۳) با آب شیلنگ یکمرتبه آب می‌کشیم.
 (۴) دو مرتبه آب شیلنگ را روی ظرف می‌گیریم پاک می‌شود.
۴۱. کدام مورد نجس نمی‌باشد؟
 (۱) مو و ناخن سگ و خوک (۲) خون پشه، مگس (۳) خون حیوان حلال گوشت (۴) اجزاء حیوان مرده حلال گوشت
۴۲. اگر غضبی بودن آب را فراموش کردیم و وضو گرفتیم وضویمان چه حکمی دارد؟
 (۱) باطل است. (۲) صحیح است. (۳) بنا بر احتیاط واجب باید دوباره وضو گرفت. (۴) حرام است.
۴۳. مردار حیوانی که خون جهنده دارد:
 (۱) اگر حلال گوشت باشد پاک است. (۲) اگر ضد عفونی شود پاک است. (۳) نجس است. (۴) پاک است.

۴۴. عین نجس و متنجس است.

- (۱) قابل تطهیر - قابل تطهیر
(۲) غیر قابل تطهیر - غیر قابل تطهیر
(۳) قابل تطهیر - غیر قابل تطهیر
(۴) غیر قابل تطهیر - قابل تطهیر

۴۵. در آیه شریفه «وَأَنْزَلْنَا مِنَ السَّمَاءِ مَاءً طَهُورًا»، «طهور» به معنی:

- (۱) پاک فقط (۲) پاک کننده فقط
(۳) پاک و پاک کننده (۴) گوارا

۴۶. اگر نجاستی به آب چاهی که از زمین می جوشد برسد:

- (۱) موجب نجاست آب چاه می شود.
(۲) موجب نجاست آب چاه نمی شود.
(۳) تا وقتی که بو یا رنگ یا مزه آب تغییر نکرده پاک است.
(۴) در صورت کمتر از کر بودن آن موجب نجاست می شود.

۴۷. خوراندن عین نجس به اطفال چه حکمی دارد؟

- (۱) حرام است (۲) مکروه است
(۳) جایز است (۴) احتیاط در ترک آن است

۴۸. در غسل ترتیبی:

- (۱) واجب است که بدن از بالا به پایین شسته شود.
(۲) شستن داخل گوش واجب است.
(۳) واجب نیست که بدن از بالا به پایین شسته شود.
(۴) بنا بر احتیاط باید داخل گوش شسته شود.

۴۹. پوشاندن زن تمام بدن خود را در نماز:

- (۱) فقط در صورتی که نامحرم او را ببیند لازم است.
(۲) گرچه کسی او را نبیند لازم است.
(۳) اگر نامحرم او را نبیند مستحب است.
(۴) اگر نامحرم او را نبیند بنا بر احتیاط لازم است.

۵۰. تقلید در فروع دین و در اصول دین است.

- (۱) جایز - جایز (۲) غیر جایز - غیر جایز
(۳) غیر جایز - جایز (۴) جایز - غیر جایز

● عربی

۵۱. اجزای جمله فعلیه کدام گزینه است؟

- (۱) فعل و مفعول (۲) فعل و فاعل
(۳) فعل و جار و مجرور (۴) مبتداء و خبر

۵۲. معادل عربی فعل «خارج می شوید» برای جمع مؤنث مخاطب کدام است؟

- (۱) تَخْرُجُ (۲) يَخْرُجْنَ
(۳) تَخْرُجِينَ (۴) تَخْرُجْنَ

۵۳. جای خالی را پر کنید: «هر جمله‌ی اسمیه دارای است.»

- (۱) فعل و فاعل (۲) مبتداء و خبر
(۳) خبر و فاعل (۴) مبتداء و فاعل

۵۴. در جمله «الحمد لله رب العالمین» مبتداء و خبر به ترتیب کدام است؟

- (۱) الحمد - رب العالمین (۲) الحمد لله - رب العالمین
(۳) رب العالمین - الحمد لله (۴) الحمد - لله

۵۵. کدام جمله از نظر فعل و فاعل و مفعول مرتب می باشد؟

- (۱) جاء الحقُّ وَهَقَّ الباطل (۲) أَخْرَجَ مِنْهَا فَأَنْتَكَ رَحِيمٌ
(۳) أَنْزَلَ اللَّهُ سَكِينَتَهُ عَلَى رَسُولِهِ (۴) النَّجْمُ وَالشَّجَرُ يَسْجُدَانِ

۵۶. در مورد کلمات «وَجَدَ - السَّعَادَةَ» در جمله «وجد الانسان السعادة في الأخلاق» کدام گزینه درست است؟

- (۱) فعل ماضی - مفعول به و منصوب
(۲) فعل ماضی برای مفرد مؤنث - مفعول به و منصوب
(۳) جمله فعلیه - مفعول به و منصوب
(۴) فعل ماضی برای مفرد مذکر - مفعول به و مرفوع

۵۷. کدام گزینه صحیح است؟

- (۱) تَشْرِبِينَ - فعل مضارع برای مفرد مذکر
(۲) تَشْرِبِينَ - فعل مضارع برای جمع مؤنث
(۳) إِشْرَبِي - فعل امر برای مفرد مذکر
(۴) إِشْرَبِي - فعل امر برای مفرد مؤنث

۵۸. نهی افعال «تعملون - تَعْبُرُونَ» کدام است؟
 (۱) لا تعملوا - لا تعبر
 (۲) لا تعملون - لا تعبرون
 (۳) لا تعملوا - لا تعبرون
 (۴) لا تعملون - لا تعبر
۵۹. گزینه مناسب افعال «يَسْأَلُونَ - وَجَدْتُ» به ترتیب کدام است؟
 (۱) ائتت - ائتت
 (۲) هُن - هُن
 (۳) ائتت - ائتت
 (۴) ائتت - هُن
۶۰. وزن کلمات «سَيِّد - سائل» به ترتیب کدام است؟
 (۱) فاعل - فاعل
 (۲) فاعل - فاعل
 (۳) فاعل - فاعل
 (۴) فاعل - فاعل
۶۱. مذکر عبارت «إِذَا تَعَجَّلِينَ تَخْسِرِينَ» کدام است؟
 (۱) إِذَا تَعَجَّلُ تَخْسِرُ.
 (۲) إِذَا يَعْجَلُ يَخْسِرُ.
 (۳) إِذَا تَعَجَّلَن تَخْسِرْنَ.
 (۴) إِذَا يَعْجَلَن يَخْسِرْنَ.
۶۲. گزینه مناسب جای خالی کدام است؟ «أَنْتُمْ أَنْتُمْ أَنْ وَغَدَ اللَّهُ حَقًّا»
 (۱) يَلْعَنُ
 (۲) تَلْمِيزُ
 (۳) عَلِمَ
 (۴) تَلْمِيزُ
۶۳. ضمیر جمع مذکر مخاطب کدام است؟
 (۱) أَنْتُمْ
 (۲) أَنْتُمْ
 (۳) هُنَّ
 (۴) هُمْ
۶۴. در جواب سؤال «هل ذكرت الله في جميع الأعمال» کدام گزینه می باشد؟
 (۱) نعم، ذكرت الله في جميع الأعمال
 (۲) نعم، ذكرت الله في جميع الأعمال
 (۳) نعم، ذكرت الله في جميع الأعمال
 (۴) نعم، ذكرت الله في جميع الأعمال
۶۵. گزینه مناسب با جای خالی کدام است؟ «أولئك رَبِّهِمْ عَلَى نِعْمَةٍ»
 (۱) يشكرون
 (۲) تشكرون
 (۳) يشكرون
 (۴) تشكرون
۶۶. مفرد مؤنث فعل ماضی کدام گزینه است؟
 (۱) حَمَلْتُ حِجَابَةً مِنْ سَجِيلٍ
 (۲) حَمَلْتُ حِجَابَةً مِنْ سَجِيلٍ
 (۳) حَمَلْتُ حِجَابَةً مِنْ سَجِيلٍ
 (۴) حَمَلْتُ حِجَابَةً مِنْ سَجِيلٍ
۶۷. ضمیر مناسب فعل های «جَلَسْنَا - كَتَبُوا» را مشخص کنید.
 (۱) أَنَا - هُمْ
 (۲) نَحْنُ - هُمْ
 (۳) نَحْنُ - هُنَّ
 (۴) هِيَ - هُمْ
۶۸. مثنای کلمات «فَأَس - حمامة» کدام گزینه است؟
 (۱) فَأَسِينِ - حَمَامَتَانِ
 (۲) فَأَسِينِ - حَمَامَتَانِ
 (۳) فَأَسِينِ - حَمَامَتَيْنِ
 (۴) فَأَسَانِ - حَمَامَانِ
۶۹. مفرد اسمهای «مَدَارِس - عالِمات - صالحان» کدام می باشد؟
 (۱) مَدْرَس - عالِمَة - صَالِحَة
 (۲) مَدْرَس - عالِمَة - صَالِحَة
 (۳) مَدْرَسَة - عالِمَة - صَالِحَة
 (۴) مَدْرَسَة - عالِمَة - صَالِحَة
۷۰. کدام گزینه صحیح می باشد؟
 (۱) هؤلاء العالمان محبوبون عند الله
 (۲) هاتان العالمين محبوبون عند الله
 (۳) هؤلاء العالمون محبوبون عند الله
 (۴) هاتين العالمون محبوبون عند الله

● ادبیات فارسی

۷۱. در بیت زیر معنی «دولت» در کدام گزینه صحیح است؟
 «بعد از خدای هر چه پرستند هیچ نیست / بی دولت آن که بر همه هیچ اختیار کرد»
 (۱) بخت و اقبال
 (۲) علم
 (۳) حکومت
 (۴) دوست
۷۲. کدام گزینه غلط است؟
 (۱) اسمی که صفتی برای آن ذکر می شود موصوف نام دارد.
 (۲) مهمترین جزء جمله قید است.
 (۳) اسمی که بعد از حرف اضافه قرار می گیرد متمم نام دارد.
 (۴) کلمه ای که خود به تنهایی معنی ندارد حرف نام دارد.

۷۳. کدام گزینه غلط است؟

- (۱) قصیده از جهت قرار گرفتن قافیه‌ها شبیه به غزل است.
 (۲) در قصیده مصراع اول بیت اول با تمام بیت‌ها هم‌قافیه است.
 (۳) قافیه در قصیده مانند قافیه در مثنوی است.
 (۴) تعداد ابیات قصیده معمولاً کمتر از دوازده نیست.

۷۴. در کدام گزینه «اسم جمع» وجود دارد؟

- (۱) خدایا لشکر اسلام را پیروز کن!
 (۲) انسان باید تلاش و جهاد کند.
 (۳) شیعیان عاشق امام زمان علیه السلام هستند.
 (۴) جوانان امیدهای آینده‌ی ایران هستند.

۷۵. در کدام گزینه «مشتق» وجود دارد؟

- (۱) کتابخانه
 (۲) چندرغاز
 (۳) دانش
 (۴) انسانها

۷۶. اسم نکره در کدام گزینه آمده است؟

- (۱) آن مرد کتاب را گرفت.
 (۲) مسجد محل عبادت است.
 (۳) امام زمان علیه السلام به مردم ایران توجه خاصی دارد.
 (۴) مردی از یک کتابفروشی کتابی خریده است.

۷۷. کدام گزینه با بقیه گزینه‌ها فرق دارد؟

- (۱) زرتشتیان
 (۲) گریان
 (۳) خندان
 (۴) دوان

۷۸. عنصر مهم و اصلی در شعر است.

- (۱) نظم و قافیه
 (۲) تنه اصلی
 (۳) عاطفه و احساس
 (۴) حسن مطلع و حسن مقطع

۷۹. با توجه به بیت داده شده در کدام گزینه معنی بیت صحیح است؟

«مپندار از آن در که هرگز نیست / که نومید گردد برآورده دست»

(۱) تصور مکن که نیازمند از دری که هرگز به روی خلق بسته نیست ناامید بازگردد.

(۲) کسی را که دست تمنا به سوی شما بالا آورده ناامید مکن.

(۳) تصور کمک گرفتن از کسی که همه خلق را ناامید می‌کند از خود دور کن.

(۴) هر کس به در بسته بکوبد ناامید می‌شود.

۸۰. «درفش سیاه بسته بر خود پر» به چه معناست؟

(۱) لباس سیاه پوشیده است.

(۲) پر کلاه خود، پرچم سیاهی بسته است.

(۳) دسته شمشیرش سیاه است.

(۴) قلب او را سیاهی گرفته است.

۸۱. خشت روی خشت گذاردن کنایه از چیست؟

(۱) کار بیپوده و بی فایده انجام دادن.

(۲) خانه و ساختمان ساختن.

(۳) مال اندوختن و جمع‌آوری ثروت.

(۴) کارخانه آجرپزی داشتن.

۸۲. بن ماضی و بن مضارع فعل‌های «نوشتیم و دیده‌اند» به ترتیب در کدام گزینه آمده است؟

(۱) نوشت - نویس - دید - بین

(۲) نویس - نوشت - بین - دید

(۳) نوشتن - بنویسید - دیدن - ببینید

(۴) نویس - نوشت - دید - بین

۸۳. فعل «رفته بودیم» چه نوع فعلی است؟

(۱) ماضی استمراری

(۴) ماضی بعید

(۲) ماضی التزامی

(۳) ماضی نقلی

۸۴. در بیت «ز سنگ سپهدار و چنگ سوار / نیامد دوال کمر پایدار» کلمه «سپهدار» استعاره از چه کسی است؟

(۱) افراسیاب

(۴) سهراب

(۲) رستم

(۳) اسفندیار

۸۵. سرزمین نخل و آفتاب نام کدام سرزمین ایران است؟

(۱) یزد

(۴) سیستان و بلوچستان

(۲) خوزستان

(۳) بوشهر

۸۶. در عبارت زیر کدام کلمه غلط املائی دارد؟

«در زندگی از تجمل دوری می‌جست، بر روی زمین می‌نشست، زیراندازش قطعه حصیری بود، قوت قالبش نان جوین و خرما بود.»

- (۱) تجمل (۲) حصیری (۳) قوت (۴) قالبش

۸۷. معنی کلمه «ابلق» در شعر «قله‌ای کوه شد یکسر ابلق»، در کدام گزینه آمده است؟

- (۱) گل‌های رنگارنگ و زیبا (۲) سفید
(۳) هردو رنگی که یکی از رنگ‌های آن سفید باشد (۴) سبز

۸۸. معنی صحیح جمله «چشم تو بس مختصر و در وی نمی‌گنجد» در کدام گزینه آمده است؟

- (۱) قناعت پیشه کن. (۲) تو کوتاه نظری و زیبایی جهان طبیعت را درک نمی‌کنی.
(۳) چشم‌چرانی نکن. (۴) چشم امید به آنچه به تو نمی‌رسد نبند.

۸۹. در مثنوی.....

- (۱) مصراع اول بیت اول و آخر بیت‌ها هم‌قافیه است. (۲) هر بیت قافیه‌ای جداگانه دارد.
(۳) مصراع اول و دوم و چهارم هم‌قافیه است. (۴) آخر مصراع دوم و چهارم هم‌قافیه است.

۹۰. معنی «نان کور» با توجه به عبارت در کدام گزینه صحیح است؟

«بختیاری‌ها عموماً خون‌گرم و مهمان‌نوازند و معتقدند هر کس از این فضیلت بی‌بهره باشد به اصطلاح خود آنان «نان کور» باشد...»

- (۱) تندخو (۲) ترسو (۳) خسیس (۴) کینه‌توز

● ریاضی

۹۱. گرد شده عدد $46/573$ با تقریب کمتر از $0/1$ کدام است؟

- (۱) $26/6$ (۲) $46/5$ (۳) $46/58$ (۴) $26/68$

۹۲. به جای نقطه چین چه رقم‌هایی می‌توان نوشت؟ $31 = (\dots\dots\dots)$

- (۱) ۱۱۱۱۱ (۲) ۱۰۱۱۱ (۳) ۱۱۰۱۰ (۴) ۱۰۰۰۱

۹۳. جذر دقیق $\sqrt{\frac{100}{25} \times \frac{100}{16}}$ چقدر است؟

- (۱) ۲ (۲) ۱ (۳) ۳ (۴) ۴

۹۴. در شکل زیر دو خط AB و CD موازیند. مجموع کدام دو زاویه 180° است؟

- (۱) ۵ و ۲ (۲) ۱ و ۳ (۳) ۶ و ۴ (۴) ۸ و ۱

۹۵. حاصل عبارت $\left[3 - \left(+\frac{3}{5}\right)\right] \div \left[\frac{4}{6} + \left(-\frac{5}{9}\right)\right]$ را به دست آورید.

- (۱) $-\frac{108}{5}$ (۲) $\frac{108}{5}$ (۳) $\frac{5}{108}$ (۴) $-\frac{5}{108}$

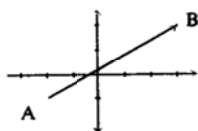
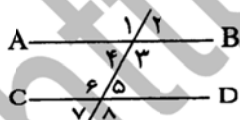
۹۶. با توجه به شکل، کدام گزینه متناظر با \overline{AB} می‌باشد؟

(۱) $\begin{bmatrix} 5 \\ 2 \end{bmatrix} - \begin{bmatrix} 2 \\ 2 \end{bmatrix} = \begin{bmatrix} 3 \\ 0 \end{bmatrix}$ (۲) $\begin{bmatrix} -2 \\ -1 \end{bmatrix} + \begin{bmatrix} 5 \\ 3 \end{bmatrix} = \begin{bmatrix} 3 \\ 2 \end{bmatrix}$

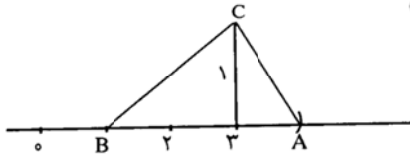
(۳) $\begin{bmatrix} 2 \\ 2 \end{bmatrix} + \begin{bmatrix} 5 \\ 3 \end{bmatrix} = \begin{bmatrix} 7 \\ 5 \end{bmatrix}$ (۴) $\begin{bmatrix} 5 \\ 3 \end{bmatrix} + \begin{bmatrix} 2 \\ 2 \end{bmatrix} = \begin{bmatrix} 7 \\ 5 \end{bmatrix}$

۹۷. حاصل را به صورت عدد تواندار به دست آورید.
 $\frac{\left(-\frac{2}{5}\right)^4 \times \left(-\frac{5}{2}\right)^4}{3^2 \div 2^2}$

- (۱) $\left(\frac{2}{3}\right)^2$ (۲) $\left(-\frac{2}{3}\right)^2$ (۳) $\left(-\frac{2}{3}\right)^2$ (۴) $\left(\frac{2}{3}\right)^2$



۹۸. با توجه به شکل، نقطه A نمایش چه عددی است؟ (از نقطه B به شعاع BC کمان زده شده)



- (۱) $1 + \sqrt{5}$
- (۲) $\sqrt{5}$
- (۳) $1 - \sqrt{5}$
- (۴) $-\sqrt{5}$

۹۹. حجم کره‌ای به قطر ۶ سانتی متر برابر کدام گزینه است؟

- (۱) $3\pi/4$
- (۲) $13\pi/4$
- (۳) $11\pi/4$
- (۴) $11\pi/4$

۱۰۰. اگر ۸ واحد از بزرگترین مقسوم علیه مشترک دو عدد ۶۴۳۲ و ۱۳۲ کم شود کدام عدد به دست می‌آید؟

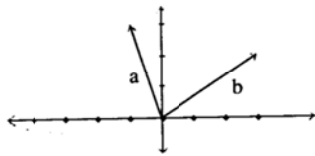
- (۱) -۶
- (۲) ۶
- (۳) -۴
- (۴) ۴

۱۰۱. دو زاویه A و B متقابل به رأس و متمم یکدیگرند مکمل زاویه A برابر است با:

- (۱) 45°
- (۲) 135°
- (۳) 90°
- (۴) 145°

۱۰۲. حاصل عبارت مقابل را به دست آورید. $(a-2b)^2$

- (۱) $a^2 + 4ab - 4b^2$
- (۲) $a^2 - 4ab + 4b^2$
- (۳) $-a^2 - 4ab + 4b^2$
- (۴) $-a^2 - 4ab - 4b^2$



۱۰۳. با توجه به شکل $\vec{a} + \vec{b} = \vec{c}$ را به دست آورید.

- (۱) $\begin{bmatrix} -2 \\ -5 \end{bmatrix}$
- (۲) $\begin{bmatrix} 5 \\ 2 \end{bmatrix}$
- (۳) $\begin{bmatrix} -5 \\ -2 \end{bmatrix}$
- (۴) $\begin{bmatrix} 2 \\ 5 \end{bmatrix}$

$\vec{x} = 3\vec{a} - 5\vec{b}$

۱۰۴. اگر $\vec{a} = 3\vec{i} + (-2)\vec{j}$ و $\vec{b} = 3\vec{i} + \vec{j}$ باشد مختصات بردار \vec{x} چقدر است؟

- (۱) $\begin{bmatrix} 11 \\ 6 \end{bmatrix}$
- (۲) $\begin{bmatrix} -11 \\ 6 \end{bmatrix}$
- (۳) $\begin{bmatrix} 6 \\ 11 \end{bmatrix}$
- (۴) $\begin{bmatrix} -6 \\ -11 \end{bmatrix}$

۱۰۵. معادله خطی که با خط $2x - y = 6$ موازی بوده و از نقطه‌ای به طول ۵- روز محور طولها بگذرد، کدام است؟

- (۱) $y = 2x + 10$
- (۲) $y = 2x - 10$
- (۳) $y = -2x - 10$
- (۴) $y = -2x + 10$

۱۰۶. دستگاه مقابل را حل کنید.

$\begin{cases} -3x + y = 5 \\ 2x + y = -10 \end{cases}$

- (۱) $x = -4, y = -3$
- (۲) $x = -3, y = -4$
- (۳) $x = 3, y = -4$
- (۴) $x = -4, y = 4$

۱۰۷. ۷ بنا می‌توانند یک دیوار را ۸ روزه بسازند برای آنکه دیوار ۴ روزه ساخته شود چند بنا باید کار کنند؟

- (۱) ۱۶
- (۲) ۱۲
- (۳) ۱۰
- (۴) ۱۴

۱۰۸. ساده شده عبارت $5a(2a+3b) - 7a^2$ کدام است؟

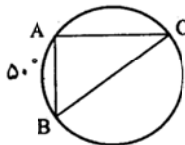
- (۱) $15a^2 + 3ab$
- (۲) $3a^2 - 15ab$
- (۳) $-3a^2 - 15ab$
- (۴) $3a^2 + 15ab$

۱۰۹. حجم هرم مربع القاعده‌ای که هر ضلع قاعده آن ۴ و ارتفاع آن ۶ سانتی متر است به دست آورید.

- (۱) ۳۰
- (۲) ۳۶
- (۳) ۳۲
- (۴) ۳۵

۱۱۰. با توجه به شکل مقابل BC قطر دایره است و $\widehat{AB} = 50^\circ$. زاویه \widehat{A} و \widehat{C} به ترتیب برابر است با:

- (۱) 90° و 25°
- (۲) 90° و 50°
- (۳) 90° و 25°
- (۴) 75° و 25°



۱۱۱. لوله به آب مثل سرخرگهاست به

(۱) سیاهرگها (۲) مویرگها (۳) قلب (۴) خون

۱۱۲. «حسن مردی است پاک، متقی، پرهیزکار،» .

(۱) وطن پرست (۲) منظم (۳) میهمان نواز (۴) پارسا

۱۱۳. کدام جفت با بقیه فرق دارد؟

(۱) عقده و حقارت (۲) بازرسی و نظارت (۳) بذل و سخارت (۴) کودکی و صباوت

۱۱۴. پدر و مادری ۴ پسر دارند و هر پسر یک خواهر، اعضای خانواده چند نفرند؟

(۱) ۷ (۲) ۶ (۳) ۵ (۴) ۸

۱۱۵. معدل چهار درس دانش آموزی نه است یکی از نمراتش را چقدر اضافه کنیم تا این شاگرد قبول شود؟

(۱) ۲ (۲) ۳ (۳) ۴ (۴) ۵

۱۱۶. احتمال وجود کدامیک از موارد زیر در یک مزرعه بیشتر است؟

(۱) گندم (۲) آب (۳) هیزم (۴) میوه

۱۱۷. کدام زوج از لغتهای زیر با سه زوج دیگر شباهت کمتری دارد؟

(۱) صفحه، کتاب (۲) کلاس، مدرسه (۳) هواپیما، اتومبیل (۴) خانه، اطاق

۱۱۸. شهر به استان مانند استان به:

(۱) کشور (۲) پایتخت (۳) منطقه (۴) ایران

۱۱۹. همه حاضران در این اطاق شیرازی هستند. حسن در این اطاق است. حسن شیرازی نیست. اگر جمله اول و دوم درست باشد، جمله سوم:

(۱) حتماً درست است. (۲) حتماً غلط است. (۳) احتمالاً غلط است. (۴) احتمالاً درست است.

۱۲۰. اعداد داخل کادر مقابل به نحوی باهم مربوطند از میان عددهای داده شده آن را که باید به جای علامت سؤال گذاشته شود تعیین کنید.

۲	۴	۲
۴	۱	۴
۲	۴	۲

(۱) ۴ (۲) ۳

(۳) ۲ (۴) ۱

۱۲۱. اگر به دو برابر عددی ۵ واحد اضافه کنیم، ۱۷ واحد بیش از خود آن عدد می شود، آن عدد کدام است؟

(۱) ۶ (۲) ۱۱ (۳) ۲۲ (۴) ۱۲

۱۲۲. اعداد ۴ و ۶ به ۹ و ۷ مانند ت ج است به:

(۱) د ز (۲) خ د (۳) ع خ (۴) خ ع

۱۲۳. نسبت آهن به فلز مثل نسبت مرد است به:

(۱) انسان (۲) حیوان (۳) زن (۴) بشریت

۱۲۴. یکی از اعداد «۶۵ و ۳۲ و ۱۷ و ۹ و ۵ و ۳» غلط است عدد صحیح آن را پیدا کنید؟

(۱) ۶۲ (۲) ۴۳ (۳) ۵۳ (۴) ۳۳

۱۲۵. $\frac{1}{3}$ عددی بعلاوه $\frac{1}{3}$ آن عدد بعلاوه خود آن عدد برابر است با ۳۳، آن عدد کدام است؟

(۱) ۱۲ (۲) ۱۶ (۳) ۱۸ (۴) ۲۴

۱۲۶. اگر قانونی به قانون دیگر تغییر یابد قانون اول شده است.

(۱) متروک (۲) معلوم (۳) مطرود (۴) منسوخ

۱۲۷. یکی از حروف سمت چپ به نحوی با حروف سمت راست شباهت دارد، آن حرف کدام است؟ C'D'E'M R'P'O

(۱) M (۲) D (۳) E (۴) C

۱۲۸. تیر به تابستان مانند:

(۱) خانه است به اطاق (۲) سال است به ماه (۳) شنبه است به هفته (۴) گرم است به گرما

۱۲۹. کدام عدد است که ثلث آن به اضافه ربع آن برابر با ۱۴ است؟

(۱) ۱۸ (۲) ۲۴ (۳) ۳۰ (۴) ۳۶

۱۳۰. در سری مقابل کدام گزینه را باید به جای علامت سؤال قرار داد؟

(۱) م (۲) ل (۳) ج (۴) ح

● اطلاعات عمومی

۱۳۱. مهم‌ترین و سخت‌ترین نوظئه دشمنان پس از پیروزی انقلاب چه بود؟

(۱) جنگ تحمیلی (۲) محاصره اقتصادی (۳) ترور مسئولین کشور (۴) ایجاد تفرقه بین مردم

۱۳۲. صنعت نفت ایران قبل از ملی شدن آن در دست چه کسانی بود؟

(۱) روسها (۲) آمریکایی‌ها (۳) آلمانی‌ها (۴) انگلیسی‌ها

۱۳۳. معاهده ورسای، موجب پایان کدام جنگ شد؟

(۱) جنگ جهانی اول (۲) جنگ جهانی دوم (۳) جنگ ویتنام (۴) جنگ اعراب و اسرائیل

۱۳۴. هلاکو پس از فتح ایران کدام شهر را پایتخت خود قرار داد؟

(۱) تبریز (۲) مراغه (۳) اصفهان (۴) یزد

۱۳۵. به عقیده مورخان کدام یک از پادشاهان هخامنشی بسیار خردمند بوده است؟

(۱) کوروش (۲) داریوش (۳) خشایار (۴) کمبوجیه

۱۳۶. قاره آسیا تقریباً خشکی‌های جهان را در بر می‌گیرد.

(۱) $\frac{1}{4}$ (۲) $\frac{1}{3}$ (۳) $\frac{1}{2}$ (۴) $\frac{1}{5}$

۱۳۷. بزرگترین بیابان و طولانی‌ترین رود جهان به ترتیب کدام است؟

(۱) صحرا - نیل (۲) صحرا - دانوب (۳) لوت - نیل (۴) لوت - آمازون

۱۳۸. بلندترین فلات روی زمین کدام است؟

(۱) فلات تبت (۲) فلات نپولستان (۳) فلات ایران (۴) فلات آناتولی

۱۳۹. ناحیه بیابانی و نیمه بیابانی از جنوب ایران به کجا منتهی می‌شود؟

(۱) افغانستان (۲) پاکستان (۳) عراق (۴) خلیج فارس

۱۴۰. شهر تهران در زمان چه کسی به پایتختی برگزیده شد؟

(۱) آقا محمد خان (۲) امیر کبیر (۳) ناصرالدین شاه (۴) فتحعلی شاه

۱۴۱. علم الکترونیک در چه فرنی متولد شد؟

(۱) قرن هفدهم (۲) قرن هجدهم (۳) قرن نوزدهم (۴) قرن بیستم

۱۴۲. شورای نگهبان از چند نفر فقیه تشکیل می‌شود؟

(۱) شش نفر (۲) هشت نفر (۳) هفت نفر (۴) دوازده نفر

۱۴۳. اعضای مجلس خبرگان را چه کسی انتخاب می‌کند؟

(۱) رهبر (۲) شورای نگهبان (۳) مجلس (۴) مردم

۱۴۴. وظیفه اصلی مجلس شورای اسلامی چیست؟

(۱) وضع قوانین (۲) نظارت (۳) استیضاح (۴) تعیین وزراء

۱۴۵. نظارت بر خوب اجرا شدن قانون، کار اصلی کدام دستگاه است؟

(۱) قوه مجریه (۲) قوه مقننه (۳) قوه قضائیه (۴) شورای نگهبان

۱۴۶. هر چه از کناره دریای خزر به طرف دامنه‌های البرز پیش برویم:

(۱) از تعداد شهرها و تراکم جمعیت شهرنشین کاسته می‌شود. (۲) بر تعداد شهرها و تراکم جمعیت شهرنشین افزوده می‌شود.

(۳) از تعداد شهرها، کاسته و بر تراکم جمعیت افزوده می‌شود. (۴) بر تعداد شهرها، افزوده و از تراکم جمعیت کاسته می‌شود.

۱۴۷. مهم‌ترین عاملی که بر آب و هوای ناحیه کوهستانی اثر می‌گذارد کدام است؟

(۱) ارتفاع (۲) وزش باد (۳) آلودگی (۴) مجاورت با دریا

۱۴۸. مهم‌ترین محصول کشاورزی ناحیه بیابانی ر نیمه بیابانی کدام است؟

(۱) گندم و جو (۲) برنج (۳) گندم و برنج (۴) جو و ماش

۱۴۹. مهم‌ترین محصولات صادراتی کشاورزی ایران است که قسمت عمده آن در استان تولید می‌شود.

(۱) خرما - خوزستان (۲) پسته - کرمان (۳) گندم - فارس (۴) زعفران - خراسان

۱۵۰. کدام یک از بندرهای زیر در دریای عمان است؟

(۱) چاه بهار (۲) بوشهر (۳) لنگه (۴) عباس

http://www.zakr.com

تالار انجمن‌های گفتگوی تخصصی دروس حوزه‌های علمیّه

<http://zkr.com>

Copyright © Zkr.Com